

# les pierres d'aston

## 3) LES PIERRES






1

PARMI LES PIERRES PROPOSÉES,  
REGROUPEZ-LES PAR TYPE DE COULEURS.



3

COMBIEN Y A-T-IL DE PIERRES  
SUR CHAQUE LIGNE ? COMPLÉTEZ LE TABLEAU.

	
	
8	
	
6	
	
7	
	



2

CHOISISSEZ-EN 6, COLLEZ-LES  
DE LA PLUS PETITE À LA PLUS  
GRANDE DANS LA GRILLE.

--	--	--	--	--	--